


Salburua

kudeatutako hezegune Bat

Ikasleentzako unitate didaktikoa

Batxilergoa













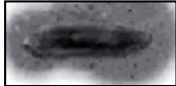


B

Batxilergoa



1. ADIERAZLE BIOLOGIKOAK

Ornogabe hauetatik zein aurkitu duzu Salburuan jasotako ur laginetan? Hurrengo taula honetan markatu itzazu:

ADIERAZLE BIOLOGIKOAK	UR KALITATEA	LAGINA
Larba efimeroa 	Oso ona	
Ur eskorpioia 	Ona	
Efemeróptero larba 	Ona	
Bibalbioa 	Erdikoa	
Ez dago bizitarik 	Oso txarra	
Karramarro gorria 	Txarra	
Gasteropodoa 	Erdikoa	
Sorginorratzaren ninfa 	Ona	
Plekoptero larba 	Osa ona	
Ur arkakusoa 	Ona	
Planaria 	Txarra	
Zapataria 	Erdikoa	
Trioptero larba 	Ona	

Aurkitutako izaki bizidunak kontutan hartuz, Salburuako ur kalitea

..... da

2. ESPEZIE EXOTIKO INBADITZAILEAK SALBURUAN

Erakusketa iraunkorrean jasotako informazioarekin eta "Inbios" proiektuaren liburuxkaren laguntzaz bete ezazu hurrengo taula:

ESPEZIE INBADITZAILEA	Kaltetutako espezie autoktonoa/k	Lotutako beste arazoak	Egin beharreko ekintzak

Salburua hezegune kudeatua

Batxilergoa



B