

12/06/2019

Puntuación Directa Máxima Alcanzable:	30
PD Alcanzada:	
Puntuación máxima alcanzable	30
Puntuación prueba:	

A107. ARQUITECTURA (PAISAJE URBANO)

SEGUNDO EJERCICIO

Tiempo máximo: 120 minutos

Escriba aquí su clave de identificación personal para esta prueba:

No abra el cuadernillo hasta que se le indique y lea atentamente las instrucciones de esta portada.

GENERALES:

- Móviles apagados y al igual que los relojes, pulseras de actividad y similares deben estar retirados. Botellas de agua, estuches y similares pueden tenerse accesibles pero no sobre la mesa.
- Se informará por voz del tiempo que falta para la realizar la prueba: 60-30-15-10-5 y último minuto.
- Sobre la mesa exclusivamente cuadernillo de preguntas, hoja de identificación personal, DNI y bolígrafo (azul o negro). No Está permitido el uso de TIPEX® o similares.
- Utilice en su ejercicio un tipo de letra que permita su lectura por el Tribunal.
- Si se le ha facilitado una hoja de identificación con una CLAVE rellénela con su DNI, nombre, apellidos y código/denominación de la prueba.
- Escriba la CLAVE en el cuestionario y en las hojas de respuesta que vaya a utilizar. Salvo instrucción contraria, NO escriba su nombre, DNI o firme la prueba ya que es causa de NO CORRECCIÓN.
- La Hoja de Identificación se recogerá transcurridos los primeros minutos de la prueba.
- Si desea un certificado de asistencia solicítelo en el momento en el que se le realice el control de presencia.

ESPECÍFICAS:









- La prueba consiste en responder, en los espacios reservados al efecto en este cuadernillo, a las cuestiones planteadas.
- Las respuestas deberán ser concretas y precisas. La corrección se realizará conforme a criterios predeterminados.
- La valoración máxima de cada pregunta, en el caso de ser diferentes, viene señalada en el enunciado de la misma.
- Si ha finalizado antes de tiempo levante la mano para que se le recoja el cuadernillo o la hoja de respuestas
- No se recogen exámenes individualmente en los últimos 3 minutos del ejercicio y si ha finalizado en este plazo permanezca en su sitio, en silencio, hasta la recogida final,

Gracias por su colaboración

Puntuación del conjunto de la prueba: 30 puntos. Preguntas 2, 3, 4, 5, 6, 8: 2 puntos; Preguntas 1, 7: 3 puntos; Pregunta 9: 12 puntos.

La pregunta 9 se responde únicamente en los dos DINA3 adjuntos (uno de ellos incorpora la planta 1/500).

1- Dígase el Género y la Especie al que pertenecen las siguientes hojas de plantas habituales en la ciudad o en el municipio de Vitoria-Gasteiz (contéstese junto a la letra). **3 puntos.**

	
A	B
	
C	D
	
E	F
	
G	H



2- En un parque de Vitoria-Gasteiz se proyecta una zona emboscada. Se ha decidido reproducir el Quejigal Subcantábrico habitual en el municipio. Enumérese al menos 5 plantas (Género y Especie) de las más características de la comunidad vegetal que se deberían incluir en el diseño. **2 puntos.**

3- Se va a realizar una obra de una gran canalización por una empresa externa en una zona ajardinada con arbustos y árboles de gran porte. Dígase qué documento debería incluir el proyecto referido a la vegetación según la Ordenanza correspondiente y descríbase su contenido. **2 puntos.**

4- La ciudad se propone elaborar un Plan de Acción de Paisaje para una zona del municipio. Descríbase el contenido de los documentos que se deben elaborar y dígase quiénes deben participar en la elaboración del Plan según el DECRETO 90/2014, de 3 de junio, sobre protección, gestión y ordenación del paisaje en la ordenación del territorio de la Comunidad Autónoma del País Vasco. **2 puntos.**

5- En un proyecto Red de riego en parque situado en una zona de la ciudad se desea utilizar el agua del freático. Indíquese cuáles son las partes fundamentales del conjunto que se diseñe teniendo en cuenta la procedencia del agua. **2 puntos.**

6- En una arboleda de un paseo urbano de Vitoria-Gasteiz hay una plaga de *tigre del plátano* (*Corythuca ciliata*). Razónense las posibles alternativas de tratamiento de acuerdo con las políticas de gestión sostenible de la ciudad. Razónense los posibles descartes. **2 puntos.**

7- Se debe diseñar la iluminación de un parque situado en la periferia de la ciudad. Una pequeña parte del mismo se interna en el Anillo Verde. Establézcanse los criterios para la iluminación del mismo. **3 puntos.**

8- La poda de árboles en la ciudad ha generado restos de hojas, ramas y troncos. Propónganse alternativas de gestión sostenible. **2 puntos.**

9- En el barrio de Lakuabizkarra se ha decidido construir un pequeño parque con una zona de juegos naturalizados en la parcela del plano adjunto. Desde la Unidad de Anillo Verde y Biodiversidad se considera que es una oportunidad para aumentar la biodiversidad del barrio con diferentes medidas. El proyecto formará parte del Sistema de Infraestructura Verde Urbana de la ciudad.

Hágase una propuesta. **(12 puntos)**

- Defínase en planta sobre el plano adjunto A3 (1/500).
- En el otro A3 adjunto y a la escala que se estime:
 - Secciones necesarias que expliquen la propuesta.
 - Defínase una sección constructiva para los caminos.